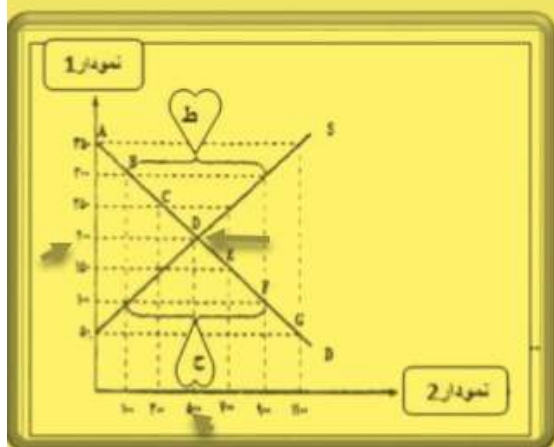


به نام خدا

سوالات درس پنجم اقتصاد

۱- اقتصاد خوانده عزیز، با توجه به نمونه حل شده زیر، دو سوال بعدی را حل کنید:

با توجه به نمودار مقابل نام موارد خواسته شده را مشخص نمایید:



الف) نام منحنی S : منحنی عرضه

ب) نام منحنی D : منحنی تقاضا

ج) نام نمودار 1 : محور قیمت

د) نام نمودار 2 : محور مقدار

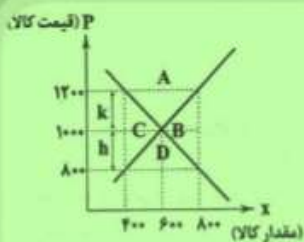
ه) محل برخورد دو نمودار S و D : نقطه تعادل

و) قیمت تعادلی: 200

ز) مقدار تعادلی: 500

ح) شکاف بین دو منحنی (فاصله "ح"): مازاد تقاضا یا کمبود عرضه

ط) شکاف بین دو منحنی (فاصله "ط"): مازاد عرضه



۴۳) با توجه به نمودار مقابل به سوالات زیر پاسخ دهید.

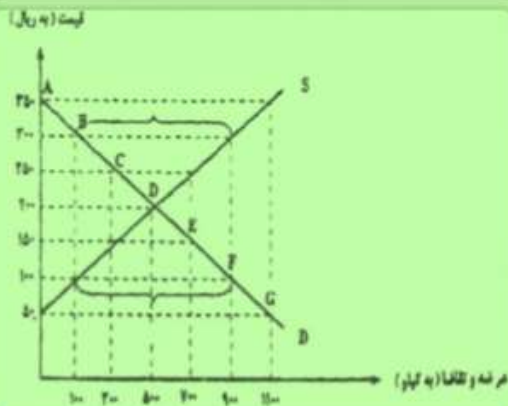
الف) کدام ناحیه کمبود عرضه را نشان می دهد؟

ب) تفاوت قیمت در مازاد عرضه بانقطه تعادلی با کدام

حرف مشخص شده است؟

ج) گرایش قیمت در مازاد عرضه چگونه است؟

د) در قیمت ۸۰۰ با چه مقدار مازاد تقاضا مواجه هستیم؟



۴۴) با توجه به نمودار مقابل به سوالات زیر پاسخ دهید.

الف) در قیمت ۳۰۰ ریال مقدار مازاد عرضه چقدر است؟

ب) مازاد عرضه و کمبود عرضه در چه موقعیتی نسبت به

نقطه ی تعادلی قرار دارند؟

ج) منحنی تقاضا با حرف مشخص شده و شکل آن

از چپ به راست است.

د) نام نقطه ی تعادلی و قیمت تعادلی و

مقدار تعادلی است.

۲- کدام یک از گزاره های زیر صحیح است؟

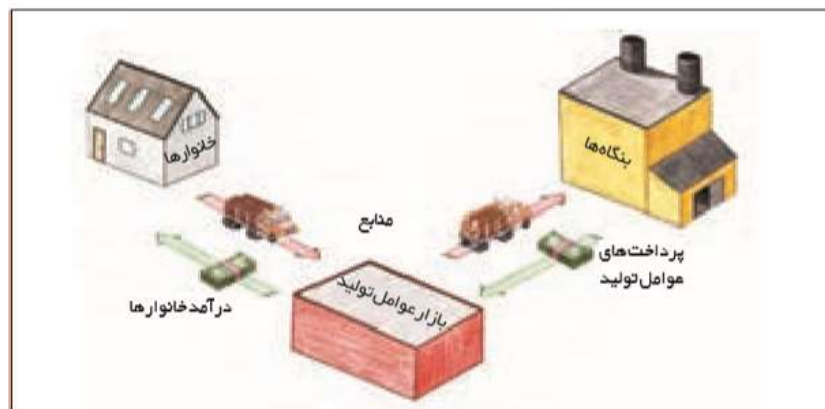
- انحصارگر در بازار قیمت پذیر است.
- انحصارگر در بازار قیمت گذار است.

۳- برخی از انواع بازارها را هم می توان در قالب حراجی ها دید که به دو صورت ومشاهده می شود.

۴- کدام یک از تعاریف زیر مربوط به کالای مکمل؟ تعاریف دیگر هر کدام مربوط به کدام نوع کالا است (پست، نرمال، جایگزین)؟

- با افزایش قیمت کالای الف، مقدار مصرف کالای ب افزایش می یابد.
- با افزایش درآمد مصرف ما از کالای الف کاهش می یابد.
- با افزایش قیمت کالای الف، مقدار تقاضای کالای ب کاهش میابد.
- با افزایش درآمد مصرف ما از کالای ب افزایش میابد.

به تصویر زیر نگاه کنید و فرایند داخل تصویر را تشریح کنید، همچنین صحت اطلاعات داخل جدول را بررسی کنید.



پرداخت هایی که بابت خرید منابع تولید به خانوارها پرداخت می شود.

ردیف	عنوان	علت
۱	دستمزد	دریافتی خانوارها بابت فروش نیروی کار
۲	اجاره	دریافتی برای اجاره زمین و ساختمان
۳	سود	دریافتی بابت سرمایه