



نام و نام خانوادگی :
 کلاس : یازدهم
 نام دبیر : آقای موبران
 رشته تحصیلی: معارف اسلامی

مدیریت آموزش و پرورش منطقه ۱۴
 دبیرستان غیر دولتی پسرانه پیام غدیر
 پایانی اول ۱۴۰۲-۱۴۰۱
 تاریخ امتحان : ۱۴۰۱/۱۰/۱۰
 نام درس: اقتصاد
 مدت امتحان : ۹۰ دقیقه

ساعت شروع امتحان : ۸ صبح
 تعداد برگ سؤال : ۳ صفحه

شماره :

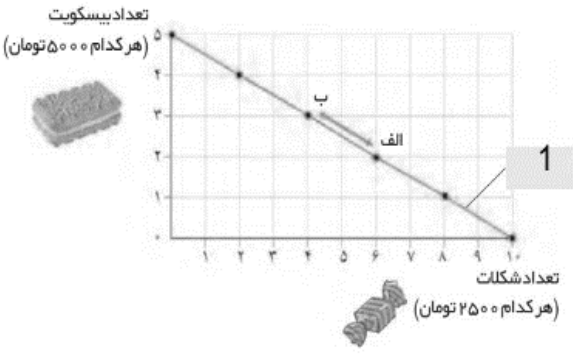
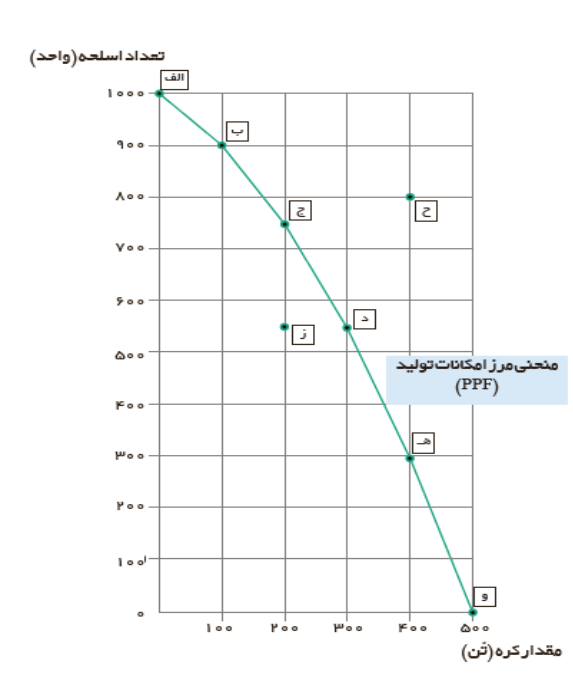
بارم	ردیف
۱	۱
۲	۲
۲	۳
۱	۴

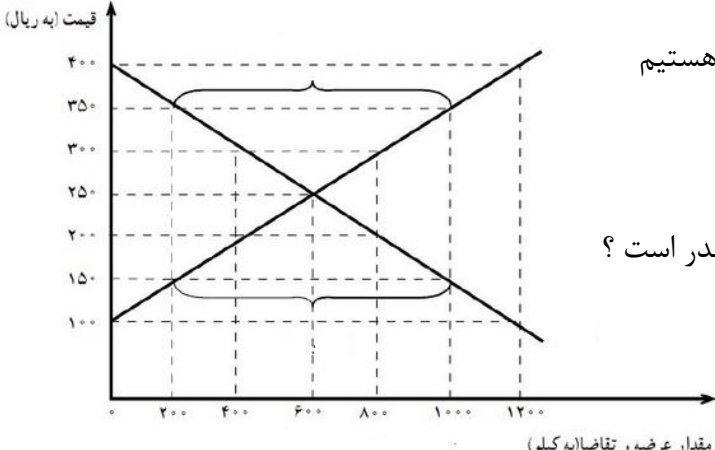
۱ درست یا نادرست بودن عبارات زیر را مشخص کنید.
 الف- کارآفرینان با کار و تلاش خود از کسب و کارها مراقبت می کنند
 ب- برای تولید کالاها و خدمات، باید به سراغ منابع کمیاب برویم
 ج- تعاونی ها نهادی قانونی هستند که برای انجام مأموریتی غیرسودآور شکل گرفته است
 د- دو بازیگر اصلی اقتصاد ، خانوارها و دولت ها هستند

۲ عبارات زیر را با کلمات مناسب تکمیل کنید .
 الف) نوع کسب و کار فعالیت های تخصصی مانند داندانپزشکی و وکالت ، می باشد.
 ب) مهمترین نوع مالیات بردرآمد. مالیات بر می باشد
 ج) زمانی که هزینه دولت از درآمدش کمتر باشد دولت با بودجه مواجه می شود.
 د) وقتی شما مقدار مشخص و محدودی برای خرج کردن دارید در این حالت می گوئیم شما یک..... دارید.

۳ گزینه صحیح را انتخاب کنید :
 ۱- افزایش قیمت مسواک بر عرضه خمیردندان چه تغییری ایجاد می کند؟
 الف) افزایش می یابد ب) تغییر نمی کند ج) کاهش می یابد د) گاهی کاهش و گاهی افزایش می یابد
 ۲- آنچه پشت سر امضای پیمان های تجاری بین المللی و یا نقض آنها بوده است، است.
 الف) گسترش روابط تجاری ب) منافع ملی ج) فاصله گرفتن از تک محصولی د) کاهش تعرفه های گمرکی
 ۳- اولین و مهم ترین هدف مالیات چیست؟
 الف) برقراری رفاه ب) کاهش رفتار نامطلوب ج) افزایش درآمد دولت د) تامین نظم و امنیت
 ۴- اگر دو کشور ایران و برزیل همه عوامل تولیدشان را برای تولید بکارگیرند ایران ۶۰ واحد و برزیل ۴۰ واحد غذا تولید می کند . در این صورت ایران دارای کدام نوع مزیت اقتصادی است؟
 الف) مزیت مطلق ب) مزیت توزیع ج) مزیت نسبی د) مزیت تولید

۴ موسسات غیرانتفاعی چه نهادهایی هستند و در چه زمینه هایی فعالیت می کنند ؟

بارم	ردیف
۱	<p>۵- فعالیت سالیانه یک بنگاه تولیدی را در نظر بگیرید و با توجه به اطلاعات داده شده محاسبه نمایید:</p> <p>الف) میزان درآمد سالیانه این بنگاه چقدر است؟</p> <p>ب) فعالیت این بنگاه در سال سود ده بوده یا زیان ده؟</p> <p>پرداخت حقوق ۱۰ کارگر که حقوق سالیانه هریک ۱۵ میلیون تومان است.</p> <p>خرید ماشین آلات ۳۰۰ میلیون تومان</p> <p>خرید مواد اولیه ۵۰ میلیون تومان</p> <p>اجاره کارگاه و هزینه های جانبی ۵۰ میلیون</p> <p>تولید کالا در طول سال ۳۰۰۰ واحد</p> <p>قیمت هر واحد کالا ۲۰۰۰۰۰ تومان</p>
۱	<p>۶ با توجه به نمودار روبرو به سوالات زیر پاسخ دهید؟</p> <p>الف) نام خط ۱ را بنویسید؟</p> <p>ب) اگر از نقطه الف به ب حرکت کنیم، چه تغییری در مقدار انتخاب شده از هریک از این دو کالا روی می دهد؟</p> 
۲	<p>۷ در مورد نمودار مرز امکانات تولید به سوالات زیر پاسخ دهید :</p> <p>الف) چگونه می توان به نقطه ح دست یافت؟</p> <p>ب) در کجای مرز امکانات تولید در نمودار قرار بگیریم تا در حالت کارایی باشیم؟</p> <p>ج) چقدر کرده کمتری در نقطه ج نسبت به نقطه د تولید شده است؟</p> <p>د) هزینه فرصت نقطه د به الف چیست؟</p> 

بارم		ردیف
۱/۵	<p>با توجه به نمودار زیر به سوالات پاسخ دهید :</p> <p>الف- در قیمت ۱۵۰ ریال با چه کمبودی روبرو هستیم و مقدار آن چقدر است ؟</p> <p>ب- مقدار تعادلی چقدر است ؟</p> <p>پ- درآمد تولیدکننده در قیمت ۲۵۰ تومان چقدر است ؟</p> 	۸
۱	<p>علت تصمیم های غلط را در موارد زیر مشخص کنید :</p> <p>الف- کلاس بی کیفیتی را چون پول داده اید تا آخر بروید :</p> <p>ب- برای تامین هزینه های مصرفی فعلی ، زیر بار سنگین انواع بدهی می رویم :</p>	۹
۱	<p>هزینه فرصت را تعریف کرده و مثال بزنید .</p>	۱۰
۲	<p>دو مورد از مزایا و دو مورد از معایب کسب و کار شخصی را بنویسید .</p>	۱۱
۲	<p>در مورد درآمدهای دولت به سوالات زیر پاسخ دهید.</p> <p>الف- دو مورد از مالیات های مستقیم را نام ببرید .</p> <p>ب- یکی از فواید مالیات بر ارزش افزوده را بنویسید .</p> <p>پ- مقدار عوارض گمرکی بر چه مبنایی تعیین می شود؟</p> <p>ت- دو مورد از اهداف گرفتن مالیات را بنویسید .</p>	۱۲
۱	<p>اصل مزیت مطلق را شرح دهید .</p>	۱۳
۱/۵	<p>به چه دلایلی کشورها با یکدیگر به تجارت می پردازند ؟</p>	۱۴