

ساعات شروع: ۷:۳۰ صبح	ریاضی و فیزیک	رشته: ۳	تعداد صفحه: ۲	هندسه ۲	سوالات آزمون نهایی درس:
مدت آزمون: ۱۲۰ دقیقه	نام و نام خانوادگی:	۱۴۰۳/۰۳/۱۶	تاریخ آزمون:	یازدهم دوره دوم متوسطه	
مرکز ارزشیابی و تضمین کیفیت نظام آموزش و پرورش azmoon.medu.ir		دانش آموزان روزانه، بزرگسال، داوطلب آزاد، آموزش از راه دور و ایشارگر داخل و خارج کشور خرداد ۱۴۰۳			
ردیف	سوالات (پاسخ نامه دارد) - استفاده از ماشین حساب ساده مجاز است.				
۱	<p style="text-align: center;">سوالات فصل ۱</p> <p>(الف) هر چندضلعی منتظم، هم محاطی و هم محیطی است. (درست - نادرست)</p> <p>(ب) طول مماس مشترک خارجی دو دایره مماس برون به شعاع‌های R و R' برابر $\sqrt{R+R'}$ است. (درست - نادرست)</p> <p>(پ) اندازه هر زاویه ظلی برابر است با اندازه کمان روبه‌رو به آن زاویه.</p> <p>(ت) اگر شعاع‌های سه دایره محاطی خارجی یک مثلث و شعاع دایره محاطی داخلی آن برابر ۴ باشد، حاصل $\frac{1}{r_a} + \frac{1}{r_b} + \frac{1}{r_c}$ برابر است.</p>				
۱.۵	<p>ثابت کنید هرگاه خط‌های شامل دو وتر دلخواه AB و CD در نقطه‌ای مانند M (بیرون دایره) یکدیگر را قطع کنند، آن‌گاه: $MA \cdot MB = MC \cdot MD$</p>				
۱.۵	<p>ثابت کنید اگر یک چهارضلعی محاطی باشد، آن‌گاه دو زاویه مقابل آن مکمل هستند.</p>				
۱.۵	<p>در شکل مقابل وتر AB بر قطر CD عمود است. ثابت کنید قطر CD وتر AB و کمان AB را نصف می‌کند.</p> 				
۱.۲۵	<p>در مثلث قائم‌الزاویه‌ای با اضلاع زاویه قائمه ۳ و ۴، شعاع دایره محاطی داخلی را محاسبه کنید.</p>				
۱.۲۵	<p>در شکل زیر MT به طول $3\sqrt{2}$ مماس بر دایره است. مقادیر عددی x و y را به دست آورید.</p> 				

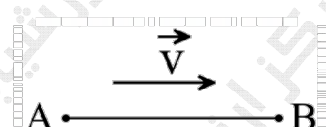
ساعات شروع: ۷:۳۰ صبح	ریاضی و فیزیک	رشته: ۳	تعداد صفحه: ۲	هندسه ۲	سؤالات آزمون نهایی درس:
مدت آزمون: ۱۲۰ دقیقه	نام و نام خانوادگی:	۱۴۰۳/۰۳/۱۶	تاریخ آزمون:	یازدهم دوره دوم متوسطه	
مرکز ارزشیابی و تضمین کیفیت نظام آموزش و پرورش azmoon.medu.ir		دانش آموزان روزانه، بزرگسال، داوطلب آزاد، آموزش از راه دور و ایشارگر داخل و خارج کشور خرداد ۱۴۰۳			

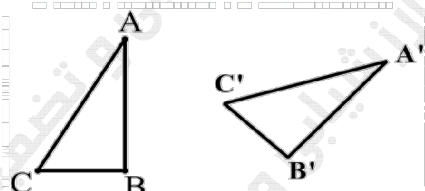
ردیف: سوالات (پاسخ نامه دارد) - استفاده از ماشین حساب ساده مجاز است. نمره

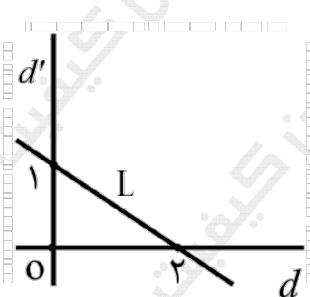
سوالات فصل ۲

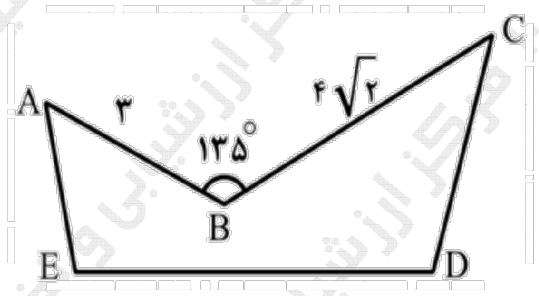
برای هر کدام از عبارات گروه A، تبدیل مناسب را از گروه B انتخاب کنید. (یک مورد از گروه B اضافی است).

۰.۷۵	گروه B	گروه A	۷
	دوران	الف) تبدیلی که جهت شکل را حفظ نمی‌کند:	
	همانی	ب) تبدیلی که نتیجه دو بازتاب متوالی با محورهای متقاطع است:	
	بازتاب	پ) تبدیلی که هر نقطه صفحه را به خود آن نقطه نظیر می‌کند:	
	انتقال		

۱	<p>با توجه به شکل زیر نشان دهید در تبدیل انتقال، اندازه هر پاره خط و اندازه تصویر آن باهم برابرند. $(\vec{V} \parallel AB)$ و اندازه \vec{V} از اندازه پاره خط AB کوچک تر است.</p> 	۸
---	--	---

۰.۵	<p>نقاط A' و B' و C' به ترتیب دوران یافته نقاط A، B و C هستند. روش یافتن مرکز دوران را شرح دهید.</p> 	۹
-----	--	---

۱.۰۵	<p>در شکل روبه‌رو اگر خط L را در تجانس به مرکز O و نسبت تجانس $\frac{7}{4}$ تصویر کنیم و آن را L' بنامیم؛ مساحت بین خط L و L' و خطوط d و d' چقدر است؟</p> 	۱۰
------	--	----

ساعات شروع: ۷:۳۰ صبح	ریاضی و فیزیک	رشته:	تعداد صفحه: ۳	هندسه ۲	سوالات آزمون نهایی درس:
مدت آزمون: ۱۲۰ دقیقه	نام و نام خانوادگی:	۱۴۰۳/۰۳/۱۶	تاریخ آزمون:	یازدهم دوره دوم متوسطه	
مرکز ارزشیابی و تضمین کیفیت نظام آموزش و پرورش azmoon.medu.ir		دانش آموزان روزانه، بزرگسال، داوطلب آزاد، آموزش از راه دور و ایتارگر داخل و خارج کشور خرداد ۱۴۰۳			
ردیف	سوالات (پاسخ نامه دارد) - استفاده از ماشین حساب ساده مجاز است.				نمره
۱۱	<p>با توجه به شکل، نقطه M روی پاره خط $HK=8$ را به گونه‌ای بیابید که:</p> <p>الف) مسیر AMB کوتاه‌ترین مسیر ممکن باشد.</p> <p>ب) کمترین مقدار عددی $AM+MB$ را محاسبه کنید.</p>				۱.۲۵
۱۲	<p>در شکل زیر، می‌خواهیم بدون آن که محیط تغییر کند، مساحت را افزایش دهیم. میزان افزایش مساحت را حساب کنید.</p> 				۱
۱۳	<p>سوالات فصل ۳</p> <p>در مثلث ABC، $BC = 10 \text{ cm}$، $\hat{A} = 30^\circ$، مقدار شعاع دایره محیطی کدام است؟ الف) ۱۰ ب) ۱۵ پ) ۲۰ ت) ۲۵</p>				۰.۵
۱۴	<p>در مثلث ABC که $(\hat{A} < 90^\circ)$، ثابت کنید: $a^2 = b^2 + c^2 - 2bc \cdot \cos A$</p>				۱.۵
۱۵	<p>مساحت مثلث متساوی‌الاضلاع به ضلع a را به کمک دستور هرون بیابید.</p>				۱
۱۶	<p>در مثلث ABC، $AB = 7$، $AC = 4$ و $BC = 10$ است. طول نیمساز داخلی زاویه C را محاسبه کنید.</p>				۱.۵
۱۷	<p>در مثلث ABC که $AB = 4$، $AC = 6$ و $BC = 8$، نقطه M وسط ضلع BC است. محیط مثلث AMC را به دست آورید.</p>				۱.۵