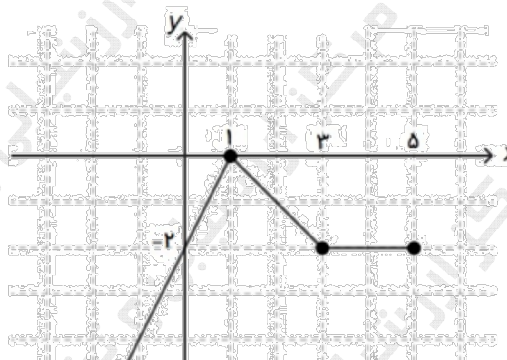
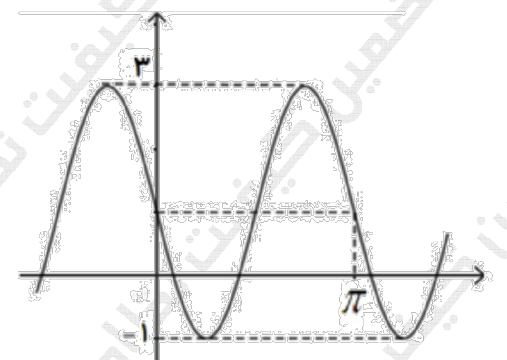
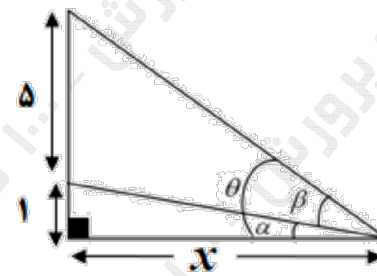


سؤالات آزمون نهایی درس: حسابان ۲		تعداد صفحه: ۲		رشته: ریاضی و فیزیک		ساعت شروع: ۷:۳۰ صبح	
دوره دوم متوسطه - دوازدهم		تاریخ آزمون: ۱۴۰۳/۰۳/۱۷		نام و نام خانوادگی:		مدت آزمون: ۱۲۰ دقیقه	
دانش آموزان روزانه، بزرگسال، داوطلب آزاد، آموزش از راه دور و ایشاگر داخل و خارج کشور خرداد ۱۴۰۳				مرکز ارزشیابی و تضمین کیفیت نظام آموزش و پرورش azmoon.medu.ir			
ردیف	سؤالات (پاسخ نامه دارد) - استفاده از ماشین حساب ساده مجاز است.						
۰.۵	<p>درستی یا نادرستی عبارات زیر را تعیین کنید.</p> <p>الف) اگر توابع f و g در یک فاصله اکیداً نزولی باشند، تابع $f + g$ نیز در آن فاصله اکیداً نزولی است.</p> <p>ب) اگر $x = c$ طول یک نقطه اکسترمم نسبی تابع f باشد، آن گاه $f'(c) = 0$.</p>						
۰.۷۵	<p>جاهای خالی را با عدد یا عبارت مناسب کامل کنید.</p> <p>الف) تابع $f(x) = (x - 2)^3 + 1$ را در نظر بگیرید. نمودار f^{-1} از ناحیه محورهای مختصات عبور نمی کند.</p> <p>ب) حاصل $\lim_{x \rightarrow \frac{\pi}{2}^+} \tan x$ برابر است.</p> <p>پ) اگر $f'(4) = 2$ و $f(4) = -1$، خط مماس بر نمودار f در $x = 4$، محور y ها را در نقطه ای به عرض</p>						
۱.۲۵	<p>نمودار تابع $f(x)$ در زیر رسم شده است، نمودار تابع $y = -f(2x - 1)$ را رسم کرده، سپس دامنه و برد تابع حاصل را به دست آورید.</p> 						
۱.۲۵	<p>الف) اگر چندجمله ای $p(x) = x^3 + mx + 2$ بر $x - 2$ بخش پذیر باشد، آنگاه باقی مانده تقسیم $p(x)$ بر $x + 1$ را به دست آورید.</p> <p>ب) چندجمله ای $x^5 - 1$ را طوری تجزیه کنید که $x - 1$ یک عامل آن باشد.</p>						
۱	<p>نمودار داده شده در شکل زیر مربوط به تابع با ضابطه $y = a \sin bx + c$ است. با فرض $a > 0$، مقادیر a، b و c را به دست آورید.</p> 						

سؤالات آزمون نهایی درس: حسابان ۲		تعداد صفحه: ۲	رشته: ریاضی و فیزیک	ساعت شروع: ۷:۳۰ صبح
دوره دوم متوسطه - دوازدهم		تاریخ آزمون: ۱۴۰۳/۰۳/۱۷	نام و نام خانوادگی:	مدت آزمون: ۱۲۰ دقیقه
دانش آموزان روزانه، بزرگسال، داوطلب آزاد، آموزش از راه دور و ایشارگر داخل و خارج کشور خرداد ۱۴۰۳				
مرکز ارزشیابی و تضمین کیفیت نظام آموزش و پرورش azmoon.medu.ir				
ردیف	سؤالات (پاسخ نامه دارد) - استفاده از ماشین حساب ساده مجاز است.			
۶	معادله $\sin 2x = \sin x$ را حل کنید.			
۷	<p>نشان دهید در شکل زیر رابطه بین زاویه β و x به صورت زیر است.</p>  $\tan \beta = \frac{5x}{x^2 + 6}$	۱		
۸	<p>حدهای زیر را محاسبه کنید. (نماد [] علامت جزء صحیح است.)</p> <p>الف) $\lim_{x \rightarrow 1^+} \frac{[2x] - 1}{x - 1}$ ب) $\lim_{x \rightarrow +\infty} \frac{2x^2 - 3x}{1 - x^2}$ پ) $\lim_{x \rightarrow -\infty} (-3x^3 + 2x + 1)$</p>			
۹	<p>مجانبات های قائم و افقی منحنی تابع $f(x) = \frac{2x-1}{x^3+2x}$ را به دست آورده و سپس وضعیت نمودار تابع را در نزدیکی مجانب قائم آن نمایش دهید.</p>			
۱۰	<p>مشتق پذیری تابع $f(x) = \begin{cases} x & x < 0 \\ x^2 & x \geq 0 \end{cases}$ را در نقطه $x=0$ به کمک تعریف مشتق بررسی کنید.</p>			
۱۱	<p>اگر $f'(1) = 3$، $g'(1) = 5$ و $f(1) = 1$، مقدار مشتق $(f+g)$ در $x=1$ را به دست آورید.</p>			
۱۲	<p>مشتق توابع زیر را به دست آورید. (ساده کردن مشتق الزامی نیست.)</p> <p>الف) $f(x) = (x^3 + 1)^2 (\sqrt{3x+2})$ ب) $g(x) = \sin^2 3x + \tan(x^2)$</p>			
۱۳	<p>جسمی را از سطح زمین به طور عمودی پرتاب می کنیم. فرض کنیم ارتفاع این جسم (برحسب متر) از سطح زمین در هر لحظه از معادله $h(t) = -5t^2 + 40t$ به دست می آید. (t برحسب ثانیه)</p> <p>الف) سرعت متوسط جسم در بازه زمانی $[3, 4]$ را به دست آورید.</p> <p>ب) لحظه ای را معلوم کنید که سرعت جسم برابر 20 m/s است.</p>			
۱۴	<p>مقدار ماکزیمم مطلق تابع $f(x) = x^3 - 12x$ در بازه $[-1, 3]$ را به دست آورید.</p>			
۱۵	<p>مقادیر a، b و c را در تابع $f(x) = x^3 + ax^2 + bx + c$ طوری به دست آورید که در نقطه $(3, -1)$ اکسترمم نسبی داشته باشد و $x=1$ طول نقطه عطف آن باشد.</p>			
۱۶	<p>جدول رفتار و نمودار تابع $y = (x+2)(x-4)^2$ را رسم کنید.</p>			